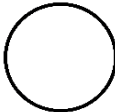

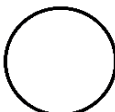





PLCMEUR
PLAÑVOUR

CARTON DE CONTRÔLE

CIRCUIT 1B - Initiation à l'orientation - Niveau 2

N° Circuit	N° Balise	Poinçon	Question	Réponse
1	31	• • •	Parmi les trois formes, laquelle est mal positionnée sur votre carte ? Poinçonnez la mauvaise forme.	
2	32	•• ••	Parmi les trois, laquelle est positionnée au sud d'un arbre ?	
3	33	•• ••	En observant votre carte, indiquez l'élément pour lequel la définition est juste.	
4	34	•• •• ••	Poinçonnez le poste manquant sur votre carte.	
5	35	•• ••	Déterminez la distance totale (aller-retour) entre le carré et le poste d'observation n°35, puis poinçonnez sur votre carte la valeur correspondant à ce trajet.	40 à 45m